

EMEF PERPÉTUO SOCORRO  
TURMA 2º ANO  
PROFESSORAS CAROLINE E TÂNIA

**ATIVIDADES DE MATEMÁTICA**

ESTUDANTE: \_\_\_\_\_

DATA: \_\_\_/\_\_\_/\_\_\_

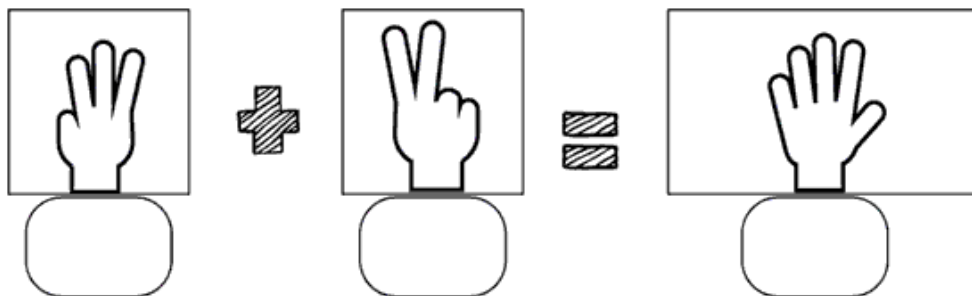
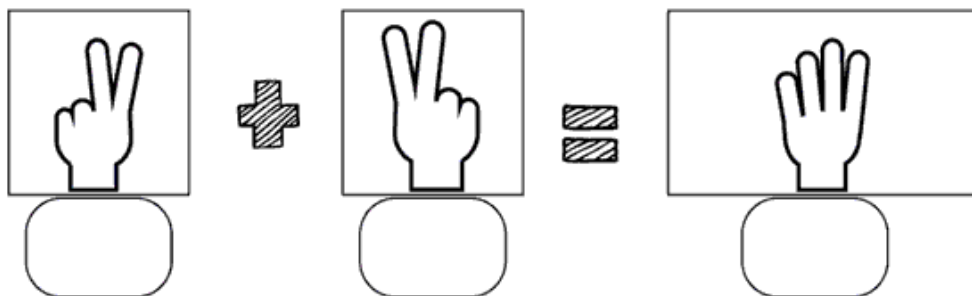
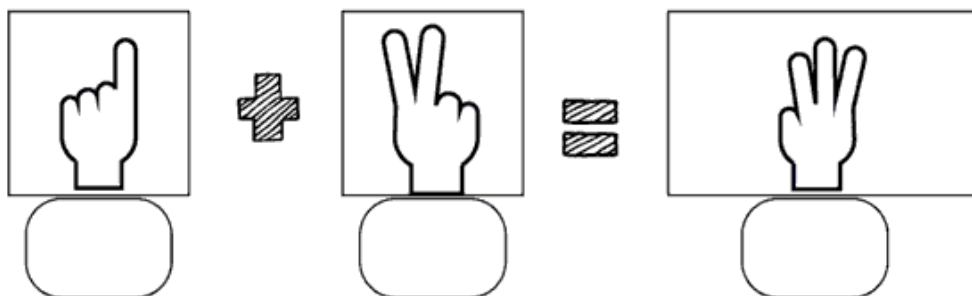
Escola: .....

Data: ..... Turma: ..... **ENSINOJA.COM**

Aluno: .....

## SOMANDO COM OS DEDINHOS

0 1 2 3 4 5 6 7 8 9



Escola: .....

Data: ..... Turma: ..... **EDUCALUNOS.COM**

Aluno: .....

① Efetue corretamente as adições e as subtrações.

No quadro abaixo, estão os resultados dos fatos, **exceto um**. Esse é o numeral oculto, pinte-o.

$4 + 1 =$

$2 + 0 =$

$5 - 3 =$

$2 + 1 =$

$1 + 3 =$

$5 - 4 =$

$2 + 3 =$

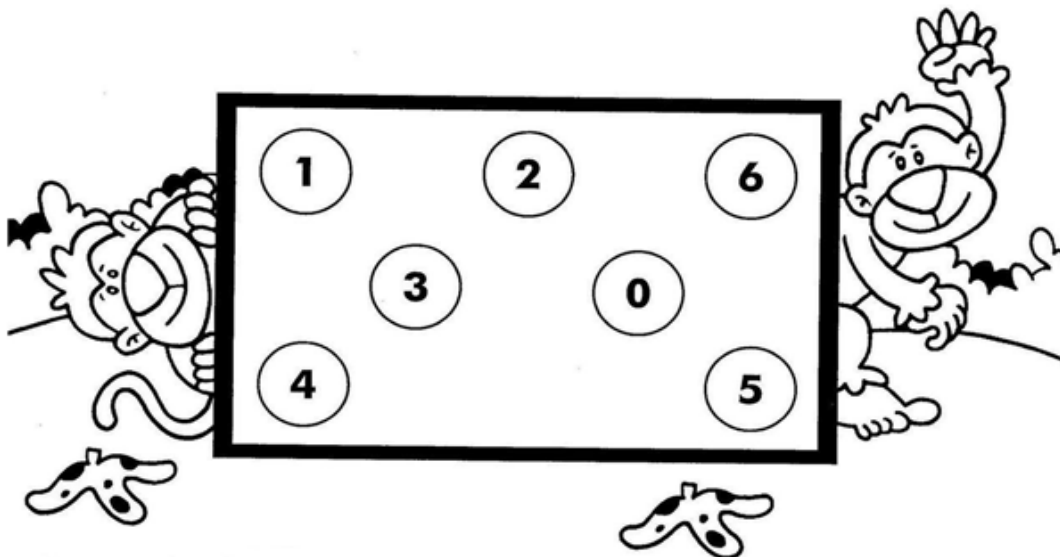
$3 - 3 =$

$5 - 1 =$

$2 + 2 =$

$4 - 1 =$

$3 - 1 =$



■ O numeral oculto é o .....

Escola: .....

Data: ..... Turma: ..... LEITORZINHO.COM

Aluno: .....



1) AJUDE A MÔNICA A COMPLETAR O QUADRO DE NUMERAIS ABAIXO:

<b>0</b>	<b>1</b>		<b>3</b>	<b>4</b>		
<b>7</b>						<b>13</b>
		<b>16</b>			<b>19</b>	
<b>21</b>						<b>27</b>
	<b>29</b>					

2) AGORA OBSERVE O QUADRO E MARQUE AS RESPOSTAS CERTAS:

A) OBSERVE O NUMERAL:

**20**

O NUMERAL QUE VEM ANTES DELE É

- (A)  19  
(B)  21  
(C)  22  
(D)  23

B) OBSERVE O NUMERAL:

**29**

O NUMERAL QUE VEM DEPOIS DELE É

- (A)  27  
(B)  26  
(C)  30  
(D)  28

C) A ESCRITA CORRETA DO NUMERAL 25 É:

**25**

- (A)  DOIS E CINCO  
(B)  VINTE E CINCO  
(C)  VINTE E UM  
(D)  DOIS MAIS CINCO

D) OBSERVE A SEQUÊNCIA NUMÉRICA.

**20 - 21 - 22 - 23 - 24 - 25 -.....**

QUAL SERIA O PRÓXIMO NUMERAL A SER ESCRITO?

- (A)  30  
(B)  27  
(C)  26  
(D)  28



Escola: \_\_\_\_\_

Data: \_\_\_\_\_ Turma: \_\_\_\_\_

Aluno: \_\_\_\_\_

COMPLETE SEGUINDO O EXEMPLO

$\boxed{10}$	$\boxed{10} \boxed{10}$	$\boxed{10} \boxed{10} \boxed{10}$	$\boxed{10} \boxed{10}$ $\boxed{10} \boxed{10}$	$\boxed{10} \boxed{10}$ $\boxed{10} \boxed{10}$ $\boxed{10}$
1 DEZENA =	2 DEZENAS =	3 DEZENAS =	4 DEZENAS =	5 DEZENAS =
$\boxed{10}$	$\square$	$\square$	$\square$	$\square$

OBSERVE E COMPLETE:

12 = UMA DEZENA E DUAS UNIDADES

14 = \_\_\_\_\_

16 \_\_\_\_\_

18 \_\_\_\_\_

15 \_\_\_\_\_

13 \_\_\_\_\_

CALCULE E COMPLETE COM  $>$ ,  $<$  ou  $=$ .

$\boxed{15 + 4}$	$\boxed{20 + 3}$	$\boxed{17 + 3}$	$\boxed{10 + 10}$
↓	↓	↓	↓
$\square$	$\square$	$\square$	$\square$
—		—	
$\boxed{13 + 5}$	$\boxed{11 + 8}$	$\boxed{22 + 3}$	$\boxed{21 + 4}$
↓	↓	↓	↓
$\square$	$\square$	$\square$	$\square$
—		—	

Aluno (a) \_\_\_\_\_ Turma 1º Ano  
Prof. \_\_\_\_\_ Data \_\_\_/\_\_\_/\_\_\_

### Atividades com dezenas e unidades

a) Pinte 1 dezena de azul e pinte 1 unidade de amarelo.



b) Pinte 1 dezena de amarelo e 2 unidades de laranja.



c) Pinte uma dezena de vermelho e 3 unidades de verde.



$$10 + 3 = \underline{\quad}$$

d) Circule 1 dezena e risque 4 unidades.



e) Circule 1 dezena e risque 5 unidades.



$$10 + 5 = \underline{\quad}$$

Nome: \_\_\_\_\_

Atividade Retirada do Site: [www.sol.eti.br](http://www.sol.eti.br)

Resolva as Operações Matemáticas Abaixo:

$$\begin{array}{r} 13 \\ - 11 \\ \hline \end{array}$$

$$\begin{array}{r} 13 \\ - 0 \\ \hline \end{array}$$

$$\begin{array}{r} 15 \\ - 12 \\ \hline \end{array}$$

$$\begin{array}{r} 12 \\ - 0 \\ \hline \end{array}$$

$$\begin{array}{r} 0 \\ - 0 \\ \hline \end{array}$$

$$\begin{array}{r} 17 \\ - 16 \\ \hline \end{array}$$

$$\begin{array}{r} 14 \\ - 12 \\ \hline \end{array}$$

$$\begin{array}{r} 12 \\ - 12 \\ \hline \end{array}$$

$$\begin{array}{r} 13 \\ - 13 \\ \hline \end{array}$$

$$\begin{array}{r} 18 \\ - 16 \\ \hline \end{array}$$

$$\begin{array}{r} 18 \\ - 0 \\ \hline \end{array}$$

$$\begin{array}{r} 17 \\ - 17 \\ \hline \end{array}$$

$$\begin{array}{r} 12 \\ - 11 \\ \hline \end{array}$$

$$\begin{array}{r} 13 \\ - 12 \\ \hline \end{array}$$

$$\begin{array}{r} 14 \\ - 14 \\ \hline \end{array}$$

$$\begin{array}{r} 14 \\ - 13 \\ \hline \end{array}$$

$$\begin{array}{r} 16 \\ - 15 \\ \hline \end{array}$$

$$\begin{array}{r} 14 \\ - 11 \\ \hline \end{array}$$

$$\begin{array}{r} 20 \\ - 15 \\ \hline \end{array}$$

$$\begin{array}{r} 15 \\ - 13 \\ \hline \end{array}$$

Copyright © <http://www.sol.eti.br>

<http://www.sol.eti.br>

# Blog Cantinho do Saber

NOME: \_\_\_\_\_ DATA: \_\_\_\_ / \_\_\_\_ / \_\_\_\_

COMPLETE O QUADRO ABAIXO.

COMPROU	VENDEU	FICOU	CÁLCULO	
 3	2	1	$3-2=1$	
 9	5			
 7	4			
 6	1			
 8	6			
 5	1			
 9	3			

Faça a Atividade Com Atenção!



Abraços!